

ШИФР Технология - 6 - 4

участника школьного этапа Всероссийской
олимпиады школьников по Технологии
в 2023-2024 учебном году

Внимание! Шифровать следует каждую страницу
Вашей письменной работы.

ФИО обучающегося

Никитина Виктория Петровна

Дата рождения 14.06.2011

Образовательное учреждение Муниципальное
бюджетное общеобразовательное учреждение
«Средняя общеобразовательная школа №1 имени
Созонова Ю.Г.», город Ханты-Мансийск

Класс 6д

ФИО учителя (полностью)

Коршункина Валентина Викторовна

Шифр участника Технология -6-4

I тур. Теоретические задания

№ 1. (1 балл) Из предложенных рисунков выберите тот, на котором изображён 3D-принтер.

	
А	Б
	
В	Г
	
Д	Е

Ответ: Е 1

№ 2. (1 балл) Экологические знаки информируют потребителя о различных показателях экологических свойств товаров. Рассмотрите приведённый знак. Из предложенных вариантов ответа выберите то описание, которое наиболее точно указывает, что означает данный знак.









- А) Знак указывает, что объект опасен для окружающей среды.
- Б) Знак означает, что данную вещь следует выбросить в урну.
- В) Знак означает, что данный продукт может быть опасен для здоровья.
- Г) Знак указывает, что данную вещь необходимо собирать и выбрасывать отдельно.

Ответ: Б 1




Шифр участника Технологии-6-4

№ 3. (1 балл) Рассмотрите рисунки. Определите, на каких из них изображены сельскохозяйственные культуры.

		
А	Б	В
		
Г	Д	Е

Ответ: Д, Е

№ 4. (1 балл) Установите соответствие между изображениями моделей фартуков и тем, для чего предназначены эти модели.

		
А - 2	Б - 3	В - 3


Шифр участника Технологии - 6-4

Назначение:

- 1) фартук продавца продовольственного магазина
- 2) парадная школьная форма сороковых-восьмидесятых годов XX-го века
- 3) для детского творчества
- 4) для работы в саду
- 5) для работы на кухне

Ответ: A-2 B1 A-4 A2; B1; B3; 0

№ 5. (1 балл) Напишите название шва.



Ответ: Растительный 0

№ 6. (1 балл) Из предложенного списка выберите продукты растительного происхождения.

А) мясо	Г) масло подсолнечное
Б) дайкон	Д) рыба
В) яйцо	Е) картофель

Ответ: Г; Е 0

№ 7. (1 балл) Решите задачу.

Сколько бутербродов с колбасой можно приготовить из трёх батонов хлеба, 2 кг молочной колбасы и 300 г сливочного масла, если для приготовления 1 бутерброда нужно 50 г колбасы, 1 кусок хлеба и 5 г сливочного масла? Хлеб купили в нарезке, в одном батоне 25 кусков.

Решение:

1) $2 \text{ кг} = 2000 \text{ г}$ 40 кус. колбасы
 2) $2000 \text{ г} : 50 = 40$ 75 кус. хлеба
~~3) $300 \text{ г} : 5 = 60$~~ ~~60 порций масла по 5 г~~

Ответ: 40 Бутербродов 1

№ 8. (1 балл) Как по правилам этикета нужно расположить нож и вилку относительно тарелки?

- А) нож и вилку справа, нож ближе к тарелке
- Б) нож справа, вилку слева
- В) нож и вилку слева, нож ближе к тарелке

Всероссийская олимпиада школьников по технологии (школьный этап)
2023-2024 учебный год
направление «Культура дома, дизайн и технологии»
5-6 класс

Шифр участника Техналия - 6-4

Г) нож и вилку справа, вилка ближе к тарелке

Д) нож и вилку слева, вилка ближе к тарелке

Ответ: А

0

№ 9. (1 балл) Внимательно рассмотрите рисунки, изображающие старинные приспособления и современные приборы. Установите соответствие между старинными и современными устройствами, удовлетворяющими одну и ту же потребность.

	Старинные приборы		Современные приборы
1		А	
2		Б	
3		В	

Ответ: 1-Б; 2-В; 3-А

1

№ 10. (11 баллов). Творческое задание.

1. Выполните один из эскизов фартука (на выбор) по предложенному описанию, используя разные цвета, дополняя своей декоративной отделкой и фасонными изменениями:

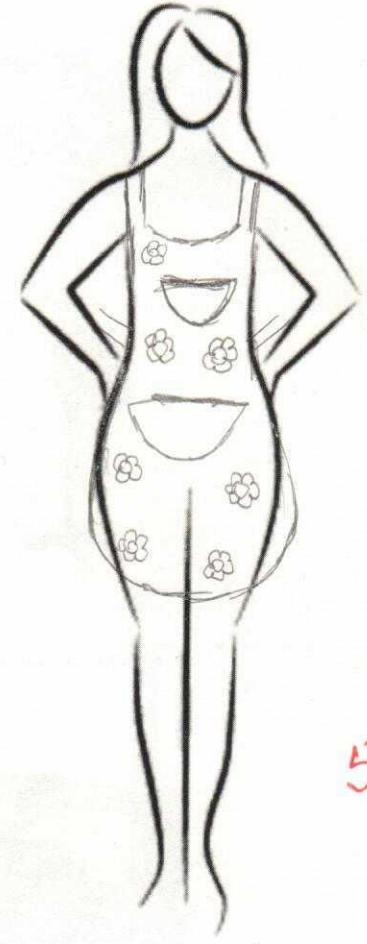
А) с закругленным низом, на бретелях, с двумя накладными карманами;

Б) отрезной с трапециевидным нагрудником, на бретелях, нижняя часть с мягкими складками по талии, низ которого заканчивается одним большим накладным карманом;

В) отрезной с нагрудником в форме сердца, на бретелях, нижняя часть со сборкой по линии талии.

2. Внесите ответы в таблицу:

Шифр участника Технария - 6-4

Описание (А, Б, или В)	Эскиз (5 балла)	
А		
Волокнистый состав ткани (3 балла) Хлопок		2
Декоративная отделка и фасонные изменения (3 балла) Завязки сзади.		3

10

5



Видоизмененный вариант вышивки
(с использованием вышивки «крестик»)

№	Название работы	Тема работы

Всероссийская олимпиада школьников по технологии (школьный этап)
2023-2024 учебный год
направление «Культура дома, дизайн и технологии»
5-6 класс

Шифр участника Технология-6-4

Карта пооперационного контроля практической работы
Выполнение вышивки «Цветик – семицветик»

№ п/п	Критерии оценки	Максимальный балл	Баллы по факту
1	Переведённый рисунок расположен точно по центру ткани	2	2
2	Вышивка выполнена по контуру рисунка	6	6
3	Соблюдение длины стежков шва «вперёд иголку» (3 мм) – 4 балла, соблюдение расстояний между стежками (2 мм) – 4 балла	8	8
4	Качество изнаночной стороны: равномерное затягивание стежков – 2 балла, отсутствие узелков – 2 балла, аккуратное закрепление ниток в начале и конце работы – 2 балла	6	4
5	Внешний вид: гармоничная цветовая гамма – 3 балла, аккуратность выполненной работы – 4 балла, законченность вышивания мотива – 3 балла	10	10
6	Качественно выполненная влажно-тепловая обработка изделия	5	5
7	Соблюдение правил безопасной работы и правильная организация рабочего места	3	3
	Всего	40	38