

ШИФР Тех 5 2

участника школьного этапа Всероссийской олимпиады школьников по \_\_\_\_\_ в 2023-2024 учебном году

Внимание! Шифровать следует каждую страницу Вашей письменной работы.

ФИО обучающегося

Бабаханова Арина Мирбековна

Дата рождения 07.10.2012

Образовательное учреждение Муниципальное бюджетное общеобразовательное учреждение «Средняя общеобразовательная школа №1 имени Созонова Ю.Г.», город Ханты-Мансийск

Класс 5 "Д"

ФИО учителя (полностью)

Копиловна Валентина

Викторовна

Шифр участника Тех-5-2

I тур. Теоретические задания

№ 1. (1 балл) Из предложенных рисунков выберите тот, на котором изображён 3D-принтер.



Ответ: Е 1

№ 2. (1 балл) Экологические знаки информируют потребителя о различных показателях экологических свойств товаров. Рассмотрите приведённый знак. Из предложенных вариантов ответа выберите то описание, которое наиболее точно указывает, что означает данный знак.

- А) Знак указывает, что объект опасен для окружающей среды.
- Б) Знак означает, что данную вещь следует выбросить в урну.
- В) Знак означает, что данный продукт может быть опасен для здоровья.
- Г) Знак указывает, что данную вещь необходимо собирать и выбрасывать отдельно.


Ответ: Б 1





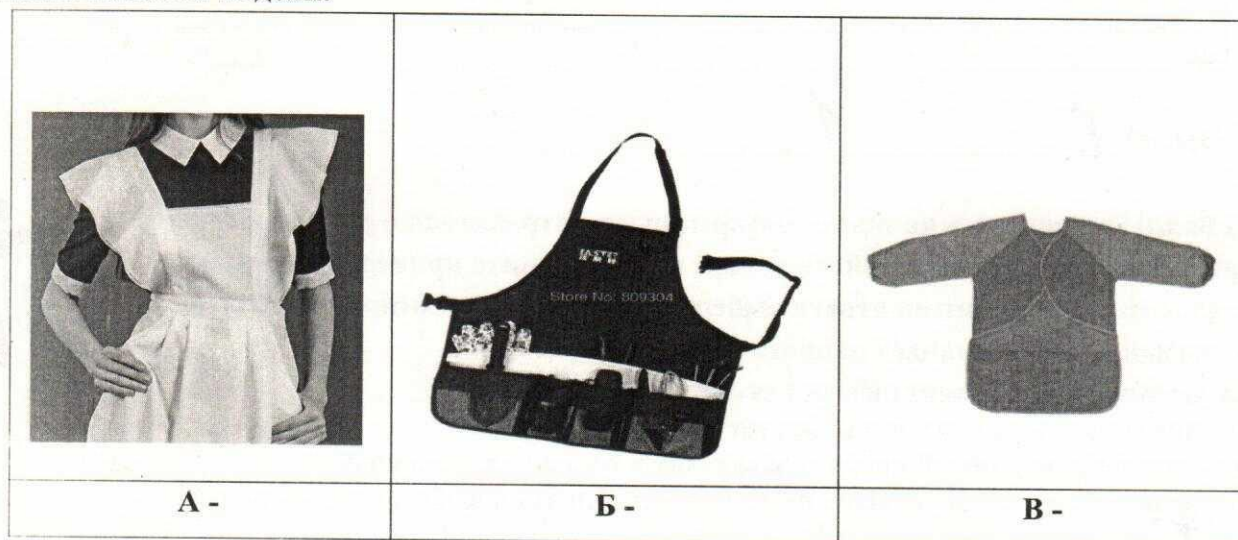
Шифр участника Тех-5-2

№ 3. (1 балл) Рассмотрите рисунки. Определите, на каких из них изображены сельскохозяйственные культуры.



Ответ: А, Г, Е 0

№ 4. (1 балл) Установите соответствие между изображениями моделей фартуков и тем, для чего предназначены эти модели.






Шифр участника Тех-5-2

Назначение:

- 1) фартук продавца продовольственного магазина
- 2) парадная школьная форма сороковых-восьмидесятых годов XX-го века
- 3) для детского творчества
- 4) для работы в саду
- 5) для работы на кухне

Ответ: A<sup>+</sup>-2, B<sup>+</sup>-4, B-1 0

№ 5. (1 балл) Напишите название шва.



Ответ: Сметать 0

№ 6. (1 балл) Из предложенного списка выберите продукты растительного происхождения.

А) мясо	Г) масло подсолнечное
Б) дайкон	Д) рыба
В) яйцо	Е) картофель

Ответ: Г, Д, В 0

№ 7. (1 балл) Решите задачу.

Сколько бутербродов с колбасой можно приготовить из трёх батонов хлеба, 2 кг молочной колбасы и 300 г сливочного масла, если для приготовления 1 бутерброда нужно 50 г колбасы, 1 кусок хлеба и 5 г сливочного масла? Хлеб купили в нарезке, в одном батоне 25 кусков.

Решение:  $2\text{ кг} = 2000\text{ г}$

- 1)  $25 \times 3 = 75$  (к.)
- 2)  $2000 : 50 = 40$  (г)
- 3)  $300 : 5 = 60$  (г)
- 4)  $60 - 40 = 20$  (г)
- 5)  $75 - 20 = 55$  (б.)

Ответ: 55 бутербродов 0

№ 8. (1 балл) Как по правилам этикета нужно расположить нож и вилку относительно тарелки?

- А) нож и вилку справа, нож ближе к тарелке
- Б) нож справа, вилку слева
- В) нож и вилку слева, нож ближе к тарелке

Шифр участника Тех-5-2

- Г) нож и вилку справа, вилка ближе к тарелке  
 Д) нож и вилку слева, вилка ближе к тарелке

Ответ: Д 1

**№ 9. (1 балл) Внимательно рассмотрите рисунки, изображающие старинные приспособления и современные приборы. Установите соответствие между старинными и современными устройствами, удовлетворяющими одну и ту же потребность.**

	Старинные приборы		Современные приборы
1		А	
2		Б	
3		В	

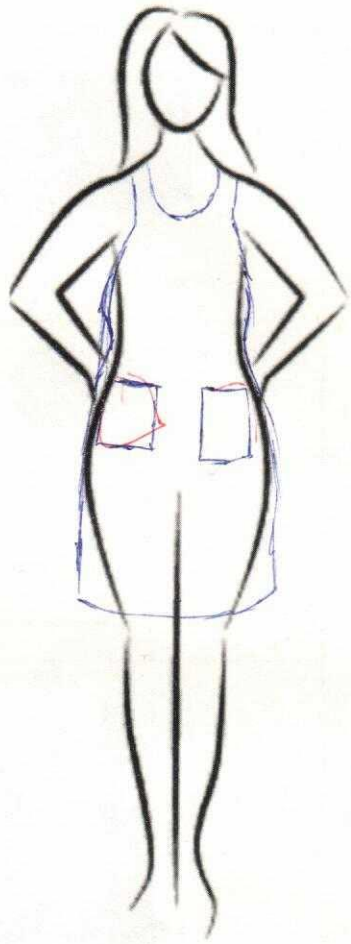

Ответ: 1-Б, 2-В, 3-А 1

**№ 10. (11 баллов). Творческое задание.**

1. Выполните один из эскизов фартука (на выбор) по предложенному описанию, используя разные цвета, дополняя своей декоративной отделкой и фасонными изменениями:
  - А) с закругленным низом, на бретелях, с двумя накладными карманами;
  - Б) отрезной с трапециевидным нагрудником, на бретелях, нижняя часть с мягкими складками по талии, низ которого заканчивается одним большим накладным карманом;
  - В) отрезной с нагрудником в форме сердца, на бретелях, нижняя часть со сборкой по линии талии.
2. Внесите ответы в таблицу:




Шифр участника Tex-5-2

Описание (А, Б, или В)	Эскиз (5 балла)
<p><u>А</u></p>	 <p>A hand-drawn fashion sketch of a woman's dress. The dress is sleeveless with a square neckline and a square waist. It features two square pockets on the front. The sketch is drawn in black ink on a white background.</p>
<p>Волокнистый состав ткани (3 балла)</p> <p><u>Хлопок</u></p> <p>2</p>	
<p>Декоративная отделка и фасонные изменения (3 балла)</p>  <p>0</p>	

6





Сестричница...  
Дружина...  
Улица...

Сестричница



Шифр участника Тех-5-2

**Карта пооперационного контроля практической работы**  
**Выполнение вышивки «Цветик – семицветик»**

№ п/п	Критерии оценки	Максимальный балл	Баллы по факту
1	Переведённый рисунок расположен точно по центру ткани	2	2
2	Вышивка выполнена по контуру рисунка	6	6
3	Соблюдение длины стежков шва «вперёд иголку» (3 мм) – 4 балла, соблюдение расстояний между стежками (2 мм) – 4 балла	8	8
4	Качество изнаночной стороны: равномерное затягивание стежков – 2 балла, отсутствие узелков – 2 балла, аккуратное закрепление ниток в начале и конце работы – 2 балла	6	5
5	Внешний вид: гармоничная цветовая гамма – 3 балла, аккуратность выполненной работы – 4 балла, законченность вышивания мотива – 3 балла	10	8
6	Качественно выполненная влажно-тепловая обработка изделия	5	1
7	Соблюдение правил безопасной работы и правильная организация рабочего места	3	3
	<b>Всего</b>	<b>40</b>	<b>33</b>