

ШИФР Гео - 11 - 2  
участника школьного этапа Всероссийской  
олимпиады школьников по географии  
в 2023-2024 учебном году

**Внимание!** Шифровать следует каждую страницу  
Вашей письменной работы.

ФИО обучающегося

Коваленко Данил

Сергеевич

Дата рождения 10.04.2006

Образовательное учреждение Муниципальное  
бюджетное общеобразовательное учреждение  
«Средняя общеобразовательная школа №1 имени  
Созонова Ю.Г.», город Ханты-Мансийск

Класс 11 В

ФИО учителя (полностью)

Белеева Екатерина Николаевна /  
Ветрова Светлана Андреевна

**Задания для участников 11 класса**

Время, отведенное на выполнение заданий обоих туров – 90 минут  
Максимальное количество баллов за оба тура – 100.

**Примечание.** Не разрешается пользоваться школьными атласами и другими источниками информации.

Шифр Гео-11-2

**Часть 1 – тестовый тур**

**1. Укажите государство, к которому относятся Фарерские острова:**

- а) Португалия; б) Испания;  в) Дания; г) Швеция. 1

**2. Определите страну по ее краткому описанию.**

В этой стране железнодорожный транспорт получил развитие достаточно давно, и сегодня не играет ведущей роли, но по показателям его работы, например, по грузообороту, страна прочно лидирует в мире. Страна также лидирует по протяженности сети железных дорог, однако доля электрифицированных дорог крайне мала, и составляет всего 1%. 0

- а) Россия; б) Канада; в) Китай; г) США; д) Германия.

**3. Выберите вариант, в котором присутствуют только страны – абсолютные монархии:**

- а) Великобритания, Дания, Испания;  б) ОАЭ, Катар, Оман; 1  
в) Германия, Австрия, Индия; г) США, Франция, Россия.

**4. Укажите остров, на котором находятся территория формально одного государства, а фактически – двух государств:**

- а) Тимор;  
б) Калимантан;  
 в) Кипр; 1  
г) Крымский;  
д) Ирландия.

**5. В какой из стран столица не является крупнейшим городом своей страны?**

- а) Египет  
б) Франция  
в) Чехия  
г) Аргентина  
 д) Швейцария 1

**6. Выберите группу стран с самым высоким естественным приростом населения:**

- а) КНДР, США, Австралия, Япония;  
б) Испания, Сан-Марино, Словакия, Россия;  
в) Латвия, Сербия, Болгария, Украина; 1  
 г) Нигер, Уганда, Малави, Бурунди.

**7. Выберите группу стран с минимальным уровнем урбанизации в мире:**

- а) Бельгия, Венесуэла, Великобритания, Австралия;  
 б) Бурунди, Малави, Уганда, Кения; 1  
в) Чехия, Россия, Болгария, Швейцария;  
г) Германия, Белоруссия, Греция, Испания.

**8. Выберите вариант, в котором представлены только самые крупнейшие морские порты мира:**

- а) Нагоя, Хьюстон, Антверпен, Тиба;  
б) Гамбург, Сан-Луис, Ванкувер, Иокогама;  
в) Амстердам, Хошимин, Ричардс-Бей, Кобе; 1  
 г) Шанхай, Сингапур, Тяньцзинь, Гуанчжоу.

**9. Определите страну по ее краткому описанию.**



2 Эта страна входит в десятку крупнейших в мире по площади и по населению. Страна имеет большую долю обрабатываемых земель и благоприятные агроклиматические условия. Большая часть расположена в пределах докембрийской плиты. Недра страны богаты месторождениями железных, медных, марганцевых, вольфрамовых руд, бокситов, хромитов, слюды, золота, алмазов, редких и драгоценных камней, а также каменного угля, нефти и газа. Приморская полоса восточного побережья местами заболочена. Большая доля водных ресурсов приходится на две крупные реки, протекающих на севере страны и общую дельту, занимающую площадь свыше 80 тыс. км<sup>2</sup>. Слабо расчленённые, низкие, песчаные берега почти не имеют удобных естественных гаваней, поэтому крупные порты расположены либо в устьях рек, либо устроены искусственно. Почти 70% жителей страны проживают в сельских регионах, хотя за последние десятилетия миграция в большие города привела к резкому увеличению городского населения.

Ответ: Страна Индия

Крупнейшая река Ганг (с Брахмапутрой)

Критерии оценивания: за каждый правильный ответ - 1 балл, всего - 2 балла.

10. В таблице приведены данные по запасам и добыче природного газа в России в 2015 г. (млрд.м<sup>3</sup>) по крупнейшим разрабатываемым месторождениям. Определите два месторождения, являющимися лидерами по показателю ресурсообеспеченности

Месторождение	Запасы	Добыча	Ресурсообеспеченность
Уренгойское	5370	89,7	
Заполярье	2274	79,3	
Ямбургское	3057	61,8	
Астраханское	3076	11,1	
Медвежье	556	7,6	

1 Ответ: 1 место Уренгойское Астраханское 2 место Астраханское Уренгойское

Критерии оценивания: за каждый правильный ответ - 1 балл, всего - 2 балла.

11. Какая страна из предложенного списка омывается водами только одного океана?

- 1
- а) Египет
  - б) Израиль
  - в) Колумбия
  - г) Марокко
  - д) Таиланд

12. Прочитайте описание. Назовите страну.

Этот флаг был официально принят в 1969 году. Он диагонально разделен на две части: верхняя левая часть – желтого цвета, а нижняя правая часть – оранжевого цвета. Посередине флага



страны находится эмблема белого дракона, смотрящего направо. Дракон держит драгоценности в своих когтях, что обозначает богатство государства. Изображенный на флаге дракон символизирует местное наименование страны – Земля Дракона. Рычащий рот дракона представляет собой силу народа, защищающего свою страну. Оранжевый цвет обозначает монастыри и религию местную религию, а оранжево-желтый цвет символизирует светскую власть монарха. Белый цвет обозначает чистоту и преданность.

- а) Непал
- б) Бутан
- в) Бруней
- г) Камбоджа
- д) Япония

2 Ответ: Страна Бутан

Критерии оценивания: за правильный ответ - 2 балла.



13. Найдите по одному лишнему слову в каждом варианте, характеризующем отдельную страну:

- а) Беларусь: зубр, полесье, картофель, МАЗы, золото, Днепр;  
б) Италия: мода, НАТО, Рурский бассейн, туризм, рыба, Фиат, Сардиния.

Ответ: а) золото б) Рурский бассейн

Критерии оценивания: за каждый правильный ответ - 1 балл, всего - 2 балла.

14. Выберите показатели, которые характерны и для Бразилии, и для Индии:

- а) входят в десятку крупнейших стран по численности населения  
б) слабоурбанизированные страны  
в) федеративные республики  
г) входят в пятёрку стран-лидеров по добыче железной руды  
д) высокая грамотность населения  
е) являются членами БРИКС  
ж) крупнейшие экспортёры судов  
з) отраслью специализации является нефтяная промышленность

Запишите буквы, под которыми указаны все правильные варианты ответа.

Ответ: абвзе

Критерии оценивания: за каждый правильный ответ - 1 балл, всего - 4 балла.

15. Выберите из предложенного списка термины, обозначающие местные ветры.

- а) фригана  
б) мистраль  
в) буря  
г) падун  
д) хауб  
е) гало  
ж) верховик  
з) сюрин  
и) сирокко  
к) пассат

Запишите буквы, под которыми указаны все правильные варианты ответа.

Ответ: бгжи

Критерии оценивания: за каждый правильный ответ - 1 балл, всего - 5 баллов.

16. Почитайте отрывок из сказки С. Лагерлеф «Чудесное путешествие Нильса с дикими гусями». Почему путешественники никак не могли дожидаться наступления ночи?

«... А солнце катилось по небу и уставало светить.

– Не понимаю, – сказал Мартин, – летим, летим, а вечер так все никак не наступит. До чего же спать хочется!

– И мне спать хочется! – сказала Марта. – Глаза слипаются.

– Да и я бы не прочь вздремнуть, – сказал Нильс.

– Смотри, смотри, Мартин, вон аисты на болоте спят. Тут, в Лапландии, все по-другому. Может, здесь вместо луны всю ночь солнце светит?»

Ответ: Поскольку зурна летит над Лапландией, то там, скорее всего, полнейшей день!

Критерии оценивания: за правильный ответ - 2 балла.

17. Определите субъект Российской Федерации по его описанию:

Данный субъект расположен в восточной части страны, его территория омывается водами Мирового океана. По его территории протекает одна из крупнейших рек России. На этой реке есть ГЭС, в регионе отсутствуют АЭС, но работают мощные ТЭС на топливе, в основном добываемом в этом же субъекте.

- а) Хабаровский край;  
б) Красноярский край;  
в) Забайкальский край;  
г) Чукотский автономный округ;  
д) Иркутская область.



Ответ: Кабаровский край

Критерии оценивания: за правильный ответ - 2 балла.

18. Для какого города указано НЕ ПРАВИЛЬНОЕ расположение на берегу реки?

- а) Барнаул – Обь;
- б) Якутск – Лена;
- в) Иркутск – Ангара;
- г)  Пермь – Волга;
- д) Хабаровск – Амур;

Ответ: Пермь

Критерии оценивания: за правильный ответ - 2 балла.

19. Как звали погибшего хантыйского князя, в честь которого назван исторический район города

Столица Ханты – Мансийского автономного округа – Югры – город Ханты – Мансийск. Ровно 430 лет назад здесь произошло важное историческое событие: небольшой отряд атамана Ермака под предводительством Богдана Брязги подошёл на лодках к хантыйскому поселению. Между казаками и ханты произошло сражение. Но казаки пошли на хитрость: они смастерили чучела людей и посадили их в лодки. Стрелы ханты со звоном отскакивали от чучел. В результате князь хантыйского поселения погиб, а все жители присягнули на верность московскому царю.

Ответ: Самар

Критерии оценивания: за правильный ответ - 4 балла.

## Часть 2 – теоретический тур

Задание 1. Вставьте пропущенные слова в данный текст описания одной из стран мира.

Рельеф страны преимущественно горный, горы занимают 71% территории, имеются многочисленные действующие и потухшие вулканы, в том числе и высшая точка страны – Фудзияма (на острове Хонсю, высотой 3776 м). Полезными ископаемыми бедна, практическое значение имеют лишь запасы каменного угля. Добывается также сера, йод, золото и серебро.

На севере страна омывается Охотским морем, на западе Японским морем, на юго-западе – Альбаттским морем, на востоке – Тихим океаном.

Климат большей части территории – субтропический муссонный, на севере – умеренный, на юге – тропический. Свыше 2/3 занято лесами: на севере – хвойными, в центральной части – широколиственными и на юге – субтропическими вечнозелеными.

Является развитой страной, значительную долю в экономике занимает сфера услуг. По объему промышленного производства занимает одно из первых мест в мире. В обрабатывающей промышленности наиболее развиты машиностроение (производство автомобилей, электроники и электротехники, судов, станков), чёрная металлургия, химическая, текстильная и пищевая промышленность. Основным средством передвижения является автотранспорт, использующий лево стороннее движение.





По форме правления страна является конституционной монархией во главе с императором. Население практически однородное, лишь на севере острова Хоккайдо проживают айно. В стране проживает 126 млн. человек (в 2018 г.), и по этому показателю она находится на 8 месте в мире. Большинство верующих – буддисты и шinto, причем, обычно исповедуют сразу две религии. Столицей страны является город Токио. В пределах столичной агломерации проживают 35 млн. человек (2017 г.).

Критерии оценивания: за каждый правильный ответ - 1 балл, всего - 16 баллов.




**Задание 2.** Вам предлагаются описания и изображения некоторых форм рельефа, различных по своему происхождению и геоморфологических (геоморфология – наука о происхождении и формах рельефа) процессов и явлений. Выберите из предложенных списков эти формы рельефа или процессы и впишите в соответствующую колонку таблицы.

**1. Формы рельефа:** столовые горы, старица, атолл, бугры пучения, фиорд (фьорд),

№	Описание формы рельефа	Название
1.	<p>Кольцевой коралловый риф, морфологически представляющий собой узкую гряду с замкнутой (или полузамкнутой) внутри лагуной. Размеры их различны – от нескольких километров до нескольких десятков километров. Есть поднятые (остров Науру) и погруженные (банка Робби) вследствие тектонических движений их оснований. Большинство концентрируются в Индо-Тихоокеанском тропическом поясе, однако известны они и в Атлантике, например, в Карибском море и у побережья Бразилии.</p> 	<p>Атолл 1</p>
2.	<p>Формы рельефа, образующиеся при промерзании переувлажненных грунтов. Широко распространены в тундре и тайге. Подобный вид, но более крупные размеры (около 100 м в поперечнике и до 20 м высоты) имеют гидролакколиты и булгуняхи в Якутии.</p> 	<p>Бугры пучения 1</p>
3.	<p>Старое отделившееся русло реки в излучине, превратившееся в озеро. Впоследствии в таких местах образуются сырые ложбины.</p> 	<p>старица 1</p>
4.	<p>Платообразные горные сооружения с усеченной, плоской вершиной. Как правило, сложены из осадочных горных пород. Склоны такой горы обычно крутые, почти отвесные. В разрезе этот вид геологических образований имеет продолговатую форму, то есть в одном из направлений плато на вершине горы вытянуто. Своей усеченной в верхней части формой обязаны процессам денудации – эрозии и выветриванию. Одной из разновидностей являются те горы, у которых их плоская вершина сложена не из осадочных пород, а покрыта затвердевшей вулканической корой из лавы. Такие горы на Гвианском нагорье называются тепуи.</p> 	<p>столовые горы 1</p>



№	Описание формы рельефа	Название
5.	 <p>Узкий глубокий морской залив с высокими крутыми скалистыми берегами, далеко вдающийся в сушу. Образование таких форм увязывают с внедрением моря в ледниковые долины либо в тектонические разломы. Распространены по берегам Скандинавского п-ова, на Кольском п-ове, Чукотке.</p>	<p>фьорд 1</p>

2. Процессы: криогенные процессы, аккумуляция, денудация, карст, эоловые процессы.

№	Описание геологического процесса	Название
1.	Процессы накопления рыхлого минерального материала и органических остатков на поверхности суши и на дне водоемов. В зависимости от основного фактора, вызывающего этот процесс, выделяют морскую, озерную, речную, ветровую, биогенную, антропогенную и другие типы.	<p>аккумуляция 1</p>
2.	Процесс сноса и частичного перемещения продуктов выветривания горных пород под действием разных факторов и агентов (гравитации, воды, ветра и др.).	<p>денудация 1</p>
3.	Процессы, происходящие в местах распространения многолетней и сезонной мерзлоты, при содержании в грунтах замёрзшей воды. Проявляются в пучении и морозной сортировке грунтов, растрескивании, в создании морозобойных клиньев и т.д.	<p>криогенные процессы 1</p>
4.	Группа внешних (экзогенных) процессов, связанных с деятельностью ветра. Наиболее активно проявляются в аридных (сухих) условиях. Различают действие с созданием ниш, котлов выдувания и аккумулятивное – с образованием дюн, барханов и др.	<p>эоловые процессы 1</p>
5.	Название этого процесса произошло от одноименного наименования известнякового плато в Словении. Он представляет собой совокупность процессов и явлений, связанных с деятельностью воды и выражающихся в растворении горных пород и образовании в них пустот, а также своеобразных форм рельефа, возникающих на местностях, сложенных сравнительно легко растворимыми в воде горными породами – гипсом, известняком, мрамором, доломитом и каменной солью.	<p>карст 1 50</p>

Критерии оценивания: за каждый правильный ответ - 1 балл, всего - 10 баллов.

### Задание 3.

В предложенном тексте в скобках подчеркнуть правильные ответы.

Республика Саха (Якутия) – субъект РФ в (Дальневосточном/Сибирском) федеральном округе; относится к Восточно-(Сибирскому/Дальневосточному) экономическому району. Образован в 1922 г. Административный центр – город Якутск, в котором в 2108 г. проживает (312 тыс. чел./964 тыс. чел.). Граничит с Чукотским АО и Магаданской областью на востоке, с Хабаровским краем на юго-востоке, на юге – с Амурской областью и Забайкальским краем, с на западе граничит с Красноярским краем. Время в республике отличается от московского на (4 / 5 / 6 / 7 / 8) часов. Регион является (первым/вторым) по площади субъектом России. Площадь территории – 3 103,3 тыс. км<sup>2</sup>, что составляет 18,1% территории России. На севере она омывается водами двух морей – (морем Лаптевых/Чукотским морем) и (Восточно-Сибирским морем/Карским морем). На севере в состав Якутии (входит архипелаг Северная Земля/входят Новосибирские острова).

Всего в Якутии сосредоточено большое количество российских запасов угля. Масштабная угледобыча ведётся в Южно-Якутском (буроугольном/каменноугольном) бассейне. На западе



региона возле города (Мирный/Норильск) создана и существует и сегодня очень мощная алмазодобывающая промышленная инфраструктура.

Климат в республике (умеренно/резко) континентальный, характерны сильные колебания температур воздуха в течение года. Разница температур самого холодного месяца — января и самого тёплого — июля составляет 70-75°C. Именно в Якутии находится Полюс холода северного полушария (Оймякон/Верхоянск), где в феврале 1892 г. была зарегистрирована температура (-67,8°C/-89,2°C).




Якутия относится к благополучным по обеспеченности водными ресурсами регионам. Западная часть региона расположена в бассейне реки (Енисей/Лена), восточная — в бассейнах рек Яны, Индигирки и Колымы. Большая часть территории Якутии расположена в зоне (тайги/тундры). Самым крупным этносом является (якуты/русские), на которых приходится 49,9% населения (по переписи 2010 г.).

Критерии оценивания: за каждый правильный ответ - 1 балл, всего - 16 баллов.

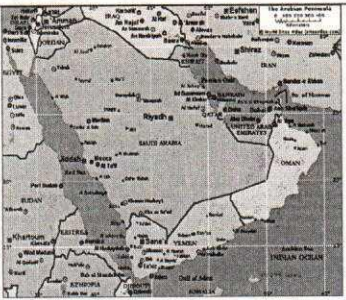




135

#### Задание 4.

«Определи объект по его изображению». Вам предстоит указать название полуостровов и ответить на вопросы, касающихся каждого из них. Результат занесите в таблицу.

№	Изображение	Название объекта	Особенности объекта
1		Пиренейский п-ов 3	Две крупные страны, расположенные на этом полуострове: 1. <u>Испания</u> ; 2. <u>Португалия</u> .
2		Камчатский п-ов 3	1. Название океана, в который вдается этот полуостров: <u>Тихий</u> ; 2. Название региона России, который частично расположен на этом полуострове: <u>Камчатский край</u>
3		Апеннинский п-ов 2	1. Название страны, в основном располагающейся в границах этого полуострова: <u>Италия</u> .



4		<p>Аравийский п-ов</p> <p>3</p>	<p>1. Самая крупная страна на полуострове: <u>Саудовская Аравия</u></p> <p>2. Залив на северо-востоке полуострова: <u>Персидский</u></p>
5		<p>Калифорния</p> <p>2</p>	<p>1. К территории какой страны относится полуостров: <u>Мексика</u></p>
6.		<p>Скандинавский</p> <p>3</p>	<p>Назовите две страны, территории которых полностью расположены на этом полуострове:</p> <p>1. <u>Норвегия</u>;</p> <p>2. <u>Швеция</u>.</p>
7.		<p>Флорида</p> <p>2</p>	<p>1. К какой стране относится этот полуостров: <u>США</u></p>
8		<p>Индия</p> <p>2</p>	<p>1. Какая страна занимает практически полностью территорию этого полуострова: <u>Индия</u></p>

Критерии оценивания: за каждый правильный ответ - 1 балл, всего - 20 баллов.

**Задание 5. Ответьте на вопрос**

На тюменской земле берут старт мощные нефте- и газопроводы. Стальные артерии связали нас с центром страны, Волгой и Дунаем, пересекли государственные границы. Какие из них были самые первые, а какие самые длинные?

Самое старое:

Самое длинное: Дружба

Критерии оценивания: за каждый правильный ответ - 1 балл, всего - 2 балла.